



Chào mừng các bạn đã đến với hiệu bánh
Vương Quốc Bánh Ngọt
Chúng mình cùng nhau làm bánh nhé!



KHỞI ĐỘNG




CHẶNG 1

CÙNG NHAU
VÀO BẾP



BAKERY
and Cafe
2F → Cakem
Coke 5000 ¥111
Milk 5000 ¥111
Milk 5000 ¥111
Milk 5000 ¥111
Milk 5000 ¥111
Milk 5000 ¥111
Milk 5000 ¥111
Milk 5000 ¥111
Milk 5000 ¥111





$$15 : 3 = ?$$



3



4



5



$$3 \times 8 = ?$$



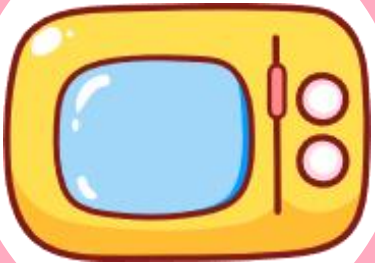
24



27



21



$$27 : 3 = ?$$



8



7



9

Cảm ơn các bạn đã giúp mình
chuẩn bị dụng cụ làm bánh.

Bây giờ, chúng ta cùng nhau làm ra
những chiếc bánh ngọt thật ngon nhé!



Thứ ngày tháng năm

TOÁN

Bài 6

**BẢNG NHÂN 4,
BẢNG CHIA 4**



A vibrant, cartoon-style illustration of a bakery storefront. The scene is set under a light blue and white striped awning. In the center, a large, white, cloud-shaped text bubble with a brown border contains the Vietnamese word "Khám phá" in a bold, purple font. Surrounding the bubble are various pastries: a pink-frosted donut with colorful sprinkles, a chocolate cake with a cherry on top, a slice of pie, a purple cake with a lemon slice, and a chocolate cake with a cherry. In the background, there are shelves with more pastries, a sign that says "BAKERY and Cafe OPEN 7-9", and a chalkboard menu. The overall atmosphere is warm and inviting.

Khám phá

BAKERY
and Cafe

2F → Customer

Cheese Cake	¥111
Apple	¥111
Blueberry	¥111
Strawberry	¥111
Green Tea	¥111
Matcha	¥111
Chocolate	¥111

Chúng ta hãy cùng hoàn thành các nhiệm vụ để chuẩn bị nguyên liệu nhé!





Mỗi chong chóng có 4 cánh.
Hỏi 5 chong chóng có bao
nhiều cánh?



$$4 \times 5 = ?$$

$$4 + 4 + 4 + 4 + 4 = 20$$

$$4 \times 5 = 20$$





Hoàn thành bảng nhân 4

Bảng nhân 4

$$4 \times 1 = 4$$

$$4 \times 2 = 8$$

$$4 \times 3 = ?$$

$$4 \times 4 = ?$$

$$4 \times 5 = ?$$

$$4 \times 6 = ?$$

$$4 \times 7 = ?$$

$$4 \times 8 = ?$$

$$4 \times 9 = ?$$

$$4 \times 10 = 40$$

Thêm 4 vào kết quả của 4×2 ta được kết quả của 4×3



**Chia sẻ
kết quả và
cách làm của
nhóm em**





Bảng nhân 4



$$4 \times 1 = 4$$

$$4 \times 2 = 8$$

$$4 \times 3 = 12$$

$$4 \times 4 = 16$$

$$4 \times 5 = 20$$

$$4 \times 6 = 24$$

$$4 \times 7 = 28$$

$$4 \times 8 = 32$$

$$4 \times 9 = 36$$

$$4 \times 10 = 40$$





Khám phá



Nhận xét bảng nhân 4

- Thừa số thứ nhất
- Thừa số thứ 2
- Tích

$$4 \times 1$$

$$= 4$$

$$4 \times 2$$

$$= 8$$

$$4 \times 3$$

$$= 12$$

$$4 \times 4$$

$$= 16$$

$$4 \times 5$$

$$= 20$$

$$4 \times 6$$

$$= 24$$



Khám phá




- Thừa số thứ nhất đều là 4.

- Thừa số thứ 2 là các số từ 1 đến 10

- Tích là các số thêm 4, từ 4 đến 40

4	x	1	=
4	x	2	=
8	x	3	=
4	x	4	=
16	x	5	=
4	x	6	=



A vibrant, cartoon-style illustration of a bakery storefront. The scene is set under a light blue and white striped awning. In the center, a large, white, cloud-shaped text bubble with a brown border contains the Vietnamese text 'Hoạt động' in a bold, purple font. Surrounding the bubble are various pastries: a pink-glazed donut with colorful sprinkles, a chocolate cake with a cherry on top, a slice of pie, and several macarons in red, purple, and brown. In the background, a wooden counter displays several round pastries. To the left, a wooden sign hangs from the awning that reads 'BAKERY and Cafe OPEN 7:00-9:00'. Below it, a chalkboard menu lists items and prices. The overall atmosphere is warm and inviting.

Hoạt động

BAKERY
and Cafe

2F → Customer

Cheese Cake	¥111
Apple	¥111
Blueberry	¥111
Strawberry	¥111
Green Tea	¥111
Matcha	¥111
Chocolate	¥111



“
Nguyên liệu đã chuẩn bị
xong. Giờ chúng mình
cùng nhau hoàn thành bài
1 để nhào bột nào!
”





1. SỐ

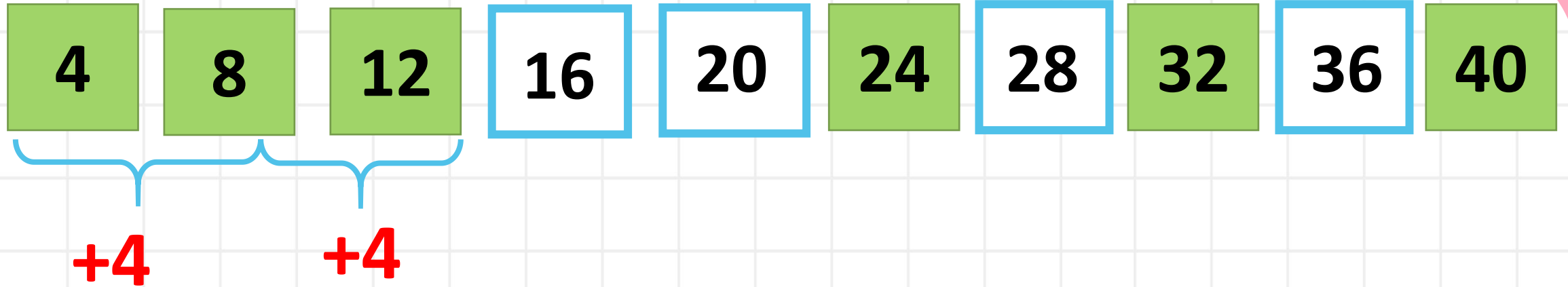
x	4	4	4	4	4	4
	2	3	5	7	9	10
	8	12	20	28	36	40




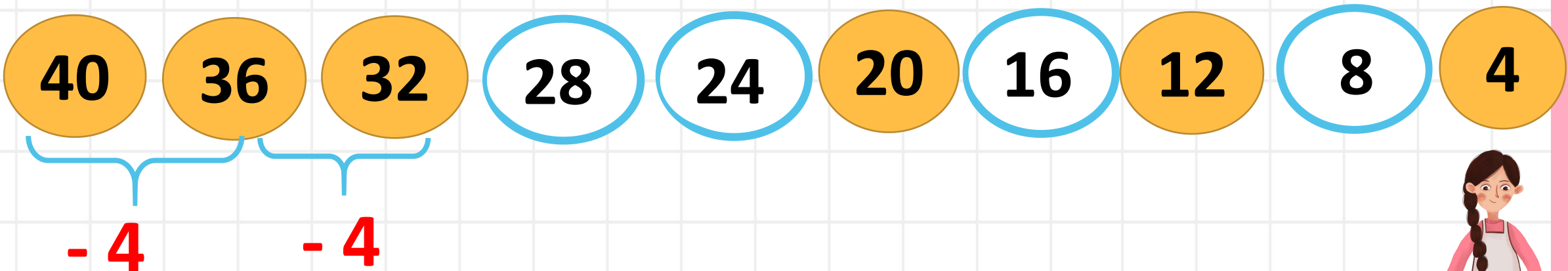
**Bột đã nhào xong.
Chúng ta hãy cùng hoàn
thành bài 2 để tạo hình
bánh nhé!**

2. Nêu các số còn thiếu.

a)



b)






“
Bánh đã được tạo hình.
Chúng ta hãy cùng hoàn
thành các nhiệm vụ để
nướng bánh nhé!
”

3. Mỗi ô tô con có 4 bánh xe. Hỏi 8 ô tô như vậy có bao nhiêu bánh xe?

Tóm tắt

1 ô tô : 4 bánh xe
8 ô tô : ? Bánh xe



3. Mỗi ô tô con có 4 bánh xe. Hỏi 8 ô tô như vậy có bao nhiêu bánh xe?

8 ô tô con có số bánh xe là:

$$8 \times 4 = 32 \text{ (bánh xe)}$$

Đáp án: 32 bánh xe



“
Vậy là chúng ta đã
làm ra được những
chiếc bánh ngon.
”





**CHÚC CÁC EM
HỌC TỐT!**